

# Муниципальная олимпиада по математике

3 класс

апрель 2026 г.

## Дорогой друг!

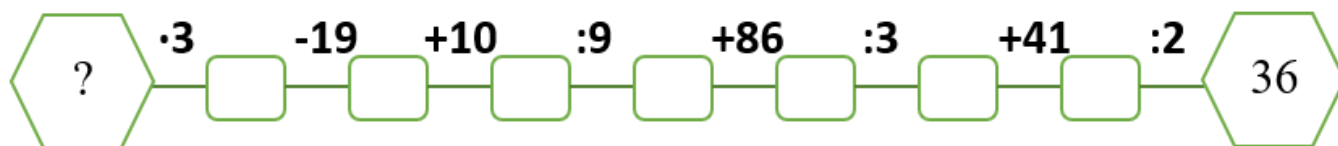
- Предлагаем тебе выполнить олимпиадные задания по математике.
- Если при ответе на вопрос ты допустил ошибку – не волнуйся, просто аккуратно зачеркни неправильный ответ и рядом напиши правильный.
- Пропусти задание, которое не удаётся выполнить сразу, и переходи к следующему. К выполнению пропущенных заданий ты можешь вернуться, если останется время.
- На выполнение всех заданий даётся 60 минут.
- Баллы, полученные за выполненные задания, суммируются.
- Необходимо выполнить как можно больше заданий и набрать наибольшее количество баллов.

1. **Запиши** все двузначные числа, чтобы сумма десятков и единиц каждого числа была равна 8.

**Ответ:** \_\_\_\_\_.

2. Догадайся! Компьютер выполняет все четыре арифметических действия. На мониторе появилось число 36. Какое число было заложено в компьютер?


Запиши промежуточные ответы и итоговый результат.



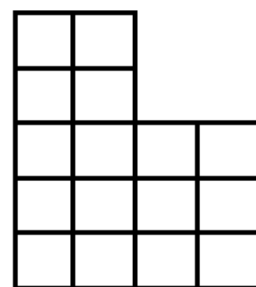
**Ответ:** \_\_\_\_\_.

3. Фигура состоит из 16 равных квадратов. Раздели эту фигуру на четыре равные части. Закрась разными цветами каждую фигуру.

Место для тренировки:



Ответ:



4. В семье два сына. Младшему 6 лет, старший в 2 раза старше. Их общий возраст составляет половину возраста отца. Сколько лет отцу?

**Ответ:** \_\_\_\_\_.

5. Во дворе школы играют 19 девочек и 12 мальчиков. Какое количество ребят должно к ним присоединиться, чтобы все они могли разбиться на 6 равных команд?

**Ответ:** \_\_\_\_\_.

**6.** Ты учишь младшего брата измерять длину предметов линейкой или рулеткой. Ты измерял предметы и у тебя получились такие значения:

2 cm

2 дм 3 см

23 MM

2 cm 6 mm

2 дм 7 см

**Запиши полученные значения в порядке возрастания.**

Ответ: \_\_\_\_\_.

7. Крышка стола имеет четыре угла. Как, отпилив один угол, получить треугольную, пятиугольную и четырёхугольную крышки? **Ответ начерти.**

\_\_\_\_\_

11/11/2019

--

**8. Реши задачу по действиям с пояснением, запиши ответ.**

В магазин привезли 45 кг бананов. В первой и второй коробках всего 29 кг. Сколько килограммов бананов в первой коробке, если во второй на 4 кг меньше, чем в третьей?

[illegible]

**Ответ:** \_\_\_\_\_